



నిరంతర సమగ్ర మూల్యాంకనం : 2014-15



సంగ్రహణిత మదింపు-2
మండలపరిషత్ ప్రాథమిక పాఠశాల

మార్కులు	
గ్రేడు	

విద్యార్థి పేరు : క్రమ సంఖ్య : మార్కులు :50 సమయం :2గం॥

విద్యాప్రమాణాలు	వినడం మరియు మాట్లాడడం	రాత	స్వయంపాఠన	సృజనాత్మకత	భాషాంశాలు
కేటాయించిన మార్కులు	10	10	15	5	10
పొందిన మార్కులు					
గ్రేడు					

● మౌఖిక పరీక్ష(10 మార్కులు)

సూచన:- వినడం - ఆలోచించడం మాట్లాడడం, ప్రశంస వంటి సామర్థాలలో బిల్లల స్తాయిని మౌఖిక పరీక్ష ద్వారా అంచనా వేయాలి)

- మీకు తెలిసిన పండుగల పేర్లు చెప్పండి
- రంగు రంగుల సేతాకోకచిలుకలు, పూలను చూసినప్పుడు మీకేమనిపిస్తుంది?
- నిడనిచ్చే చెట్ల పేర్లు చెప్పండి.

● 2. రాత పరీక్ష(10 మార్కులు)

అ) ధారాళంగా చదవడం, అర్థం చేసుకోవడం(10 మార్కులు)

ఈ క్రింది పేరా చదవండి. భాషలో వదలను ఊహించి రాయండి 5 మార్కులు

నవ్వు మనిషి ఆరోగ్యానికి సూచిక. నవ్వుడం ఒక భోగం. నవ్వుక పావడం ఒక అన్నారు. అందుకే.....తూ బతకాలిరా తమ్ముడూ అన్నాడో కవి. అంటే పెద్దగాకాదు. వెకిలిగా.....అంతకన్నా కాదు. నవ్వులో అనేక రకాలు ఉన్నాయి. చిరుహాసం, మంద..... దరహాసం ఇలా ఎన్నో.....ఉన్నాయి.

ఆ). ఈ క్రింది పేరాను చదవండి. ప్రశ్నలకు సమాధానం రాయండి 5 మార్కులు

ప్రకృతిలో అందమైనవి పువ్వులు. వాటికి సరిజోడి అన్నట్లు రంగురంగుల్లో సేతాకోకచిలుకలు అలరిస్తాయి. సేతాకోకచిలుకలు పచ్చదనం ఉన్న చోటనే మనుగడ సాగిస్తాయి. సేతాకోకచిలుకలకు రుచిచూసే అవయవ నిర్మాణం కాళ్ళలో ఉంటుంది. ఇవి పువ్వులపై వాటి మకరందాన్ని పిల్చుకుంటాయి. సేతాకోకచిలుకలు ప్రధానంగా గులాబీ, ఎరుపు, పసుపురంగుల్లో ఉండే పూలను ఆకర్షితమవుతాయి. ప్రపంచంలో మొత్తం ఇరవైబిదువేల రకాల సేతాకోకచిలుకలు ఉన్నాయి. మన దేశంలో పదిహేనువందల రకాలు, మన రాష్ట్రంలో రెండువందల రకాలు ఉన్నాయి. మన దేశంలో విభిన్న రకాల శితోష్ణస్థితులు ఉండడం. వల్ల వివిధ రంగుల్లో, వివిధ పరిమాణాలలో సేతాకోకచిలుకలు వర్షనమిస్తాయి.

- సేతాకోకచిలుకలు ఎక్కడ మనుగడ సాగిస్తాయి? (.....)
- వివిధ పూలకు సేతాకోక చిలుకలు ఆకర్షింపబడతాయి? (.....)
- సేతాకోకచిలుకలు వేటితో సరిజోడిగా ఉంటాయి? (.....)
- ప్రపంచంలో ఎన్నో రకాల సేతాకోక చిలుకలున్నాయి? (.....)
- సేతాకోకచిలుక కాళ్ళలో ఏముంది? (.....)

● స్వీయరచన(15మార్కులు)

అ) ఈ క్రింది వ్యాసరూప ప్రశ్నలలో ఒకదానికి 5,6 వాక్యాలలో సమాధానం రాయండి

1. పాఠశాలలో ప్రదర్శనను ఏర్పాటు చేయడం వల్ల ఉపయోగాలు ఏమిటో రాయండి.

లేదా

2. మీరు జరుపుకునే పండుగలలో మీకు ఇష్టమైన పండుగను గురించి రాయండి.

జి.....
.....
.....
.....

ఆ) ఈ క్రింది ప్రశ్నలకు ఒకటి లేదా రెండు వాక్యాలలో సమాధానాలు రాయండి 5x2=10

1. కనుమపండుగనాడు ఏమి చేస్తారు?

జి.....
.....

2.నేటి విద్యార్థులు అనుకున్నది సాధించాలంటే వాళ్ళకు ఎటువంటి లక్షణాలు ఉండాలి?

జి.....
.....

3.పాపయ్యను అందరూ "పిసినారి పాపయ్య" అనడం సరైనదేనా? ఎందుకు?

జి.....
.....

4.రంగు రంగుల పక్షులను చూస్తుంటే మీకు ఏమనిపిస్తుంది?

జి.....
.....

5.సంక్రాంతి ప్రాధాన్యాన్ని మీ సొంతమాటల్లో రాయండి?

జి.....
.....

● సృజనాత్మకత (5మార్కులు)

ఈ క్రింది వానిలో ఏదైనా ఒక ప్రశ్నకు సమాధానం రాయండి

1. నీడఖరీడు పాఠాన్ని సంభాషణల రూపంలో రాయండి.

లేదా

2.పండుగకు ఇంటికి రమ్మని ఫోన్ సంభాషణను పాఠించించండి.

గోపి :

రాము : చాలా బాగున్నాను.

గోపి :

రాము : మాకు రేపటి నుంచి సంక్రాంతి సెలవులు ఇచ్చారు.

గోపి :

రాము : సరే! వస్తాను.

● భాషాంశాలు(10మార్కులు)

5x2=10మార్కులు

1. పిల్లకి బిచ్చం పెట్టు పదానికి సొంత వాక్యాం రాయండి

2. చింతకాయ పులుపు కదా! పుల్లగా ఉండే వాటి పేర్లు రాయండి

3. పడి, మొలకెత్తాయి(క్రియా పదాలు ఆధారంగా సంశ్లిష్ట వాక్యాం రాయండి)

4.రంజాన్ పండుగ నాడు చేసే ముఖ్యమైన పనులు రాయండి

5."ఇంద్రధనుస్సు" ను హరివిల్లు అని కూడా అంటారు."ఇంద్రధనుస్సు"కు సంబంధించిన పదాలు రాయండి.

5వ తరగతి గణితం

నిరంతర సమగ్ర మూల్యాంకనం : 2014-15


 Edited with the trial version of Foxit Advanced PDF Editor
 To remove this notice, visit: www.foxitsoftware.com/shopping

సంగ్రహణిత్య మందిర-2
మండలపరిషత్ ప్రాథమిక పాఠశాల

మార్కులు	
గ్రేడు	

విద్యార్థి పేరు : క్రమ సంఖ్య : మార్కులు : 50 సమయం : 2 గం॥

విద్యా స్త్రమాణం	సమాస్యా సాధన	కారణాలు చెప్పడం, నిరూపణలు చేయడం	వ్యక్తపరచడం	అనుసంధానం	ప్రాతినిధ్య పరచడం	మొత్తం
కేటాయింబి మార్కులు	25	10	5	5	5	50
సాధించిన మార్కులు						
గ్రేడు						

● ఈ క్రింది సమస్యలను సాధించండి 5x5=25 మార్కులు

1. తరగతి గది పాడవు కమిటర్లు, వెడల్పు, మొదలు, గది వైశాల్యం ఎంత?

2. ఒక బస్సు డ్రైవర్ పెట్రోల్ బంకలో డిజిల్ కోసం రూ.2250 చెల్లించాడు. డిజిల్ రేటు లీటరుకు రూ.50 అయిన బస్సు డ్రైవర్ ఎన్ని లీటర్ల డిజిల్ కొన్నాడు?

3.



లాఠి



ట్రక్కు



కంట్రీనర్ ట్రక్కు

ఈ వాహనాలు ఎంత బరువును మోయగలవు?

అ) . ఒక లాఠి 7500 కి.గ్రా బరువును మోసుకెళ్లగలదు. ఒక్కొక్క కార్టన్ బరువు 15 కి.గ్రా అలాంటి ఎన్ని కార్టన్లను ఒక లాఠి మోసుకెళ్లగలదు.

ఆ) . ఒక ట్రక్కు 9000 కి.గ్రా బరువు మోయగలదు. 50 కి.గ్రా బరువున్న బియ్యం బస్తాలు ఎన్ని మోయగలదు?

ఇ) . ఒక కంట్రీనర్ 20,000 కి.గ్రా బరువు మోయగలదు. ఒక్కొక్కటి 2500 కి.గ్రా బరువు గల ఎన్ని కార్టన్లను మోయగలదు.



4). ఒక కప్పలో 50 మి.లీ.ల టే పడుతుంది. అలాంటి 12 కప్పలలో ఎంత పరిమాణం టే పడుతుంది?

5).ఒక పాఠశాలకు జూన్ మాసానికి మధ్యాహ్న భోజనం కొరకు 6 క్వింటాళ్ల బియ్యం పంపిణీ జరిగింది. పాఠశాలవారు ఆ బియ్యం నుండి 475 కి.గ్రా బియ్యంను వినియోగించారు. ఎన్ని కి.గ్రా.ల బియ్యం వినియోగించకుండా మిగిలి ఉన్నవి?

● దృశ్యీకరణం.

10.మార్కులు



పై మ్యాపును గమనించండి.

- అ) సినిమా సుట్టెం నుండి స్టార్ హోటల్ కు నడిబివెళ్లే దారిలో షోహన్ రెస్టారెంట్ ఏ వైపున ఉంది?
- ఆ) షేలా సిల్వర్ జిమ్ వద్ద ఉంది. జిమ్ నుండి వర్ష హాస్పిటల్ ఎమర్జెన్సీ గేట్ వద్దకు దారి చూడండి.

2.వినాల్ పాత సామాను కొనే పెద్ద దుకాణదారు. ఈ రోజు అతడు 45 కి.గ్రా పాత వార్తాపత్రికలు. 26కి.గ్రా పాత ఇనుము. పనికి రాని ప్లాస్టిక్ 8 కి.గ్రా కొన్నారు.



1.ఈ రోజు వినాల్ కొన్న వస్తువుల బరువు ఎంత?

2.వినాల్ పాత వార్తా పత్రికలకు కిలోకు రు.8 చెల్లించాడు?

● వ్యక్తపరచడం

5మార్కులు

1. టోకు వ్యాపారి దగ్గర వస్తువులు పెద్దమొత్తంలో ఉంటాయి. ఒక్కొక్క వస్తువు మొత్తం బరువును పట్టికలో నింపండి.

(1 క్వింటాలు = 100 కిలోగ్రాములు)

వస్తువు	బస్తాల సంఖ్య	ఒక్కొక్క బస్తా బరువు (కి.గ్రా.లలో)	మొత్తం బరువు	
			కి.గ్రా	క్వింటాళ్లు
ఉల్లిగడ్డలు	20	40		
వడ్డు	18	75		
కండులు	10	70		

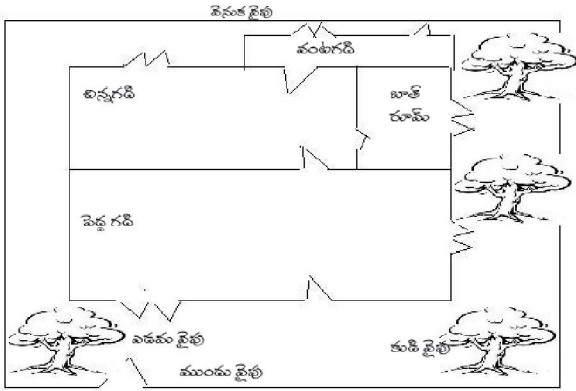
అనుసంధానం

1. పాల సాసైబోవారు రోజుకు 33లీటర్ల పాలు సేకరించి శుద్ధిచేసి 1 లీటరు, 500మి.లీ. 250మి.లీ ప్యాకెట్లలో నింపుతారు.
- అ) 110 లీటర్ల పాలను లీటరు ప్యాకెట్లు ఎన్ని చేయగలరు? ()
- ఆ) 90లీటర్ల పాలను 500 మి.లీ ప్యాకెట్లు ఎన్ని చేయగలరు? ()
- ఇ) 100 లీటర్ల పాలను 250 మి.లీ. ప్యాకెట్లు ఎన్ని చేయగలము? ()
- ఈ) ప్యాకెట్లలో నింపిన పాల పరిమాణం ఎంత? ()
- ఉ) శుద్ధి చేయడంలో వృధా అయిన పాలు ఎన్ని? ()

ప్రాతినిధ్యపరచడం

5మార్కులు

షెలా వాళ్ళ అమ్మ కింది మ్యాప్ ను గీసింది



1. పెద్ద గదికి ఎన్ని కిటికీలు ఉన్నాయి ()
2. ఇంటికి కుడి ప్రక్కన ఎన్నిచెట్లు ఉన్నాయి ()
3. చిన్న గదికి ఎన్ని ద్వారాలు ఉన్నాయి ()
4. ఇంటిలో మొత్తం ఎన్ని గదులు ఉన్నాయి ()

2. మీ వంటగదిలోని వస్తువులొకటి ఏదీ కిలోలలో ఏదీ గ్రాములలో కొంటామో పట్టిక రాయండి

కిలోగ్రాములలో కొనే వస్తువులు

గ్రాములలో కొనే వస్తువులు



నిరంతర సమగ్ర మూల్యాంకనం: 2014-15

సంగ్రహణిత్యక్త మచింపు-2
మండలపరిషత్ ప్రాథమిక పాఠశాల

మార్కులు	
గ్రేడు	

విద్యార్థి పేరు : క్రమ సంఖ్య : మార్కులు : 50 సమయం : 2 గం॥

విద్యా ప్రమాణాలు	విషయావగాహన	పశ్చింపడం, పరికల్పనలు	ప్రయోగాలు క్షేత్ర పరిశీలనలు	సమాచార నైపుణ్యాలు	బొమ్మలు పట నైపుణ్యాలు	పశంస, విలువలు	మొత్తం
కేటాయించిన మార్కులు	20	5	5	10	5	5	
సాధించిన మార్కులు							
గ్రేడు							

విషయావగాహన(20మార్కులు)

1. ఏదేని ఒక ప్రశ్నకు సమాధానం రాయండి 5మార్కులు
 అ) నదులవల్ల ఉపయోగాలేమిటి?
 ఆ) ఏ కాలంలో ఎలాంటి దుస్తులు ధరించాలి?

2.) ఈ క్రింది ప్రశ్నలకు సమాధానాలు రాయండి 5మార్కులు
 అ) నదులపైన ఆధారపడి జీవించేవారు ఎవరెవరు?

ఆ) ఏ ఏ కాలాల్లో వాతావరణం ఎలా ఉంటుంది?



3. ఈ కింది ప్రశ్నలకు సమాధానాలు వ్రాయండి.

అ). గోదావరి నదిని ఆనుకొని ఉన్న జిల్లాలు ఏవి?

ఆ) ఎండ మధ్యాహ్నం ఎక్కువగాను ఉదయం, సాయంత్రం వేళ్ళల్లో తక్కువగాను ఉంటుంది. ఎందువల్ల?

4. ఈ కింది ఖాళీలను పూరించండి

5మార్కులు

1. భూమి చుట్టూ తిరగడానికి చంద్రునికి.....రోజులు పడుతుంది.

2. పరిశ్రమల నుండి వచ్చే వ్యర్థాలు నదిలో కలిస్తే.....జరుగుతుంది.

3. భూమినుండి.....వైపుకి తిరుగుతుంది.

4. ఎండాకాలం.....నెలల్లో ఉంటుంది.

5. తూర్పు, పశ్చిమ గోదావరి జిల్లాలలో లభించే అరుదైన చేప.....

● ప్రశ్నచడం - పరికల్పనలు చేయడం

5మార్కులు

1. భూమి తన చుట్టూ తాను తిరగకపోతే ఏమవుతుంది?

2మార్కులు

2. సింధూజ గోదావరి నదిలోని నాసిక్ నుండి అంతర్వేది వరకు చూసి వచ్చింది. గోదావరి నదిని గురించి

తెలుసుకోవడానికి సింధూజను మీరు ఏ ప్రశ్నలు అడుగుతారో మూడింటిని రాయండి

3మార్కులు

● ప్రయోగాలు - క్షేత్ర పరిశీలనలు

5మార్కులు

1. ఖాళీ సీసాను నీటిలో ముంచండి. ఏం జరుగుతుందో చెప్పండి ఇలా ఎందుకవుతుందో చెప్పండి?

3మార్కులు

2. నెల రోజులు చంద్రుడిని పరిశీలించండి. మీ పరిశీలనాంశాలపై చర్చించండి. వాటిని నమోదు చేయండి.

2



● సమాచార నైపుణ్యాలు - ప్రాజెక్టు పనులు

10మార్కులు

1. గాలితో పనిచేసే వస్తువుల వివరాలు సేకరించండి. వాటి పేర్లు రాయండి. ఒక్కొక్కదానికి గాలితో గల సంబంధం గురించి రెండేసి వాక్యాలు రాయండి.

5మార్కులు

2. గోదావరి నది తీరంలోని దేవాలయాల గురించి వివరాలు సేకరించి రాయండి.

5మార్కులు

● బొమ్మలు గీయడం- పట నైపుణ్యాలు

5మార్కులు

1. సూర్యోదయాన్ని సూచించే బొమ్మ గీయండి

● ప్రశంస విలువలు

5మార్కులు

1. నదీ కాలుష్యాన్ని నివారించడానికి కొన్ని నినాదాలను తయారుచేయండి

3మార్కులు

2. ఏ ఏ వాయిద్యాల నుండి వచ్చే శబ్దాలు మీకు ఇష్టం. వాటిని వింటే మీకేమనిపిస్తుంది. 2మార్కులు



నిరంతర సమగ్ర మూల్యాంకనం : 2014-15



Edited with the trial version of Foxit Advanced PDF Editor
To remove this notice, visit: www.foxitsoftware.com/shopping

సంగ్రహణితక మదింపు-2
మండలపరిషత్ ప్రాథమిక పాఠశాల

మార్కులు	
గ్రేడు	

విద్యార్థి పేరు : క్రమ సంఖ్య : మార్కులు :50 సమయం :2 గం॥

విద్యాప్రమాణాలు	వినడం మరియు మాట్లాడడం	రాత	సీయ్యరచన	సృజనాత్మకత	భాషాంశాలు	మొత్తం
కేటాయింబిన మార్కులు	10	10	15	5	10	50
పొందిన మార్కుల						
గ్రేడు						

1.మౌఖిక పరీక్ష-10మార్కులు

సూచన:- వినడం - ఆలోచించడం మాట్లాడడం, ప్రశంస వంటిసామర్థాలలో పిల్లల స్తాయిని మౌఖిక పరీక్ష ద్వారా అంచనా వేయాలి.

1. అభ్యాసం కూసు విద్యా అనే వాక్యానికి అర్థం ఏమిటి?
- 2.మీరు ఎలా ఉండాలని అనుకుంటున్నారు? ఎందుకు?
- 3.వర్షం వస్తే చెట్టు భయపడడానికి కారణమేమి?

2. రాత పరీక్ష - 40మార్కులు

అ) ధారాళంగా చదవడం, అర్థం చేసుకోవడం (10మార్కులు)

5మార్కులు

1. ఊర్విక అనే అమ్మాయి "మంచి అలవాట్లు" ఒక పత్రికలో రాసుకొని వచ్చింది. వాటిలో మీరెవరి పాఠిస్తున్నారో (✓) తో సూచించండి.

- అ) తరగతిలో ఆంధరితో స్నేహంగా ఉండాలి ()
- ఆ) తెలిసిన విషయాలను ధైర్యంగా లేఖ చెప్పాలి. ()
- ఇ) స్నేహితులకు అవసరమైన వస్తువులిచ్చి, తెలియనడి చెప్పి సహకరించాలి. ()
- ఈ) ఇతరులపై చాడేలు చెప్పరాదు. నిజం చెప్పాలి. ()
- ఉ) వ్యక్తిగత శుభ్రత పాటించాలి. ()

2 ఈ క్రింది పదాలు చదవండి. అవి వేటి గురించి చెబుతున్నాయో రాయండి. 5మార్కులు

1. పల్లెక్ అందం
- 2.నెమరుకేస్తాయి
- 3.ముక్కు చిత్తంగా ఉంది
- 4.దోరగా పండిన
- 5.రాగాలు కేస్తాయి



అ) ఈ క్రింది వ్యాసరూప ప్రశ్నలలో ఒకదానికి 5,6 వాక్యాలలో సమాధానం రాయండి

5మార్కులు

1. రామయ్య గురించి బిడు వాక్యాలు రాయండి. (లేదా)
2. గోపి కథ చదివాక మీలో కలిగిన భావాలను రాయండి.

ఆ) ఈ క్రింది ప్రశ్నలకు ఒకటి లేదా రెండు వాక్యాలలో సమాధానాలు రాయండి 5x2=10

1. మీ గ్రామంలోని పచ్చని పొలాలను, చెట్లను చూసినపుడు, మీకు ఏమనిపిస్తుందో రాయండి?

2. "రెక్కాడితేగాని డొక్కాడదు" అంటే ఏమి?

3. పిమ్మకల జాతి పూర్తిగా అంతరించే పరిస్థితి ఎందుకు వచ్చింది?

4. గోపి తన దురలవాట్లను మార్చుకున్నాక బడిలో ఎలా ఉన్నాడో ఊహించి కథను పాడిగించి రాయండి.

5. "కడుపులో వల్ల కదలకపోవడం" అంటే ఏమిటి? దీన్ని వివరించే సందర్భాల్లో వాడుతారు?

3. సృజనాత్మకత (5మార్కులు)

1. గోపి తన దురలవాట్లను మార్చుకున్నాక బడిలో ఎలా ఉన్నాడో ఊహించి కథను పాడిగించి రాయండి. (లేదా)

2. రైతు తెలివ పాఠం కథ చదివారు కదా! కథలో రైతుకు, ఎలుగుబంటికి మధ్య జరిగిన సంభాషణను రాయండి.

ఎలుగు బంటి : ఈ చేసు నాది. ఇక్కడ పంటలు పేయడానికి వీల్లేదు.

రైతు :

ఎలుగు బంటి :

రైతు :

4. భాషాంశాలు(10మార్కులు) (అ) పదజాలం

ఈ క్రింది ఖాళీలలో సరైన జంతువులు, పక్షులను కనుకొన్నవి రాయండి.

5మార్కులు

(హంస, మొసలి, ఎఱ్ఱ, నక్క, పిల్లి, లేడి, కోడి, కోతి)

1. కాలు గాలిన.....లా తిరుగుతుండడం.

2. తినమరిగిన..... ఇల్లెక్కై కూసిందట.

3.....కి కొబ్బరికాయ దొరికినట్లు.

4.....కి లేచిందే పరుగు.

5. ఆదిలోనే.....పాడు.

(ఆ) వ్యాకరణాంశాలు

5మార్కులు

ఈ క్రింది క్రియా పదాలను వదవండి, వాటిని బట్టి కింది పట్టికలో వాక్యాలు రాయండి.

(ఎగరడం, అడడం, పాడడం, వినడం, రాయడం, వదవడం)

భూతకాలం

వర్తమాన కాలం

భవిష్యత్ కాలం

4వ తరగతి గణితం

నిరంతర సమగ్ర మూల్యాంకనం : 2014-15

Edited with the trial version of
Foxit Advanced PDF Editor
To remove this notice, visit:
www.foxitsoftware.com/shopping

సంగ్రహణిత్య మదింపు-2
మండలపరిషత్ ప్రాథమిక పాఠశాల

మార్కులు	
గ్రేడు	

విద్యార్థి పేరు : క్రమ సంఖ్య : మార్కులు: 50 సమయం :2 గం॥

విద్యా ప్రమాణం	సమాస్య సాధన	కారణాలు చెప్పడం, నిరూపణలు చేయడం	వ్యక్తపరచడం	అనుసంధానం	ప్రాతినిధ్య పరచడం	మొత్తం
కేటాయింబి మార్కులు	25	10	5	5	5	50
పొందిన మార్కులు						
గ్రేడు						

సమాస్య సాధన

ఈ క్రింది సమాస్యలను సాధించండి


○ $5 \times 5 = 25$ మార్కులు

1. కిలోగ్రాము కన్నా ఎక్కువ బరువు వున్న వస్తువులకు చుట్టండి

$2 \times 2.1/2 = 5$ మార్కులు



2. ఈ క్రింద ఇచ్చిన వస్తువులలో వేటిలో 1 లీటరు కన్నా ఎక్కువ ద్రవం పడుతుంది. వేటిలో 1 లీటరు కన్నా తక్కువ పడుతుంది దిగువ పట్టికలో రాయండి.



లీటరు కన్నా ఎక్కువ

లీటరు కన్నా తక్కువ

.....
.....
.....

.....
.....
.....

2. ఒక మెడిసిన్ టానిక్ బాటిల్లో 60మి.లీ. మెడిసిన్ ఉంది. అలాంటి 15బాటిళ్ళలో ఎంత మెడిసిన్ ఉంటుంది.

3. ఉమర్ వయస్సు 9 సంవత్సరాలు. అతని తండ్రి వయస్సు తన వయస్సుకు 4 రెట్లు ఉంది. ఉమర్ తండ్రి యొక్క వయస్సు ఎంత?

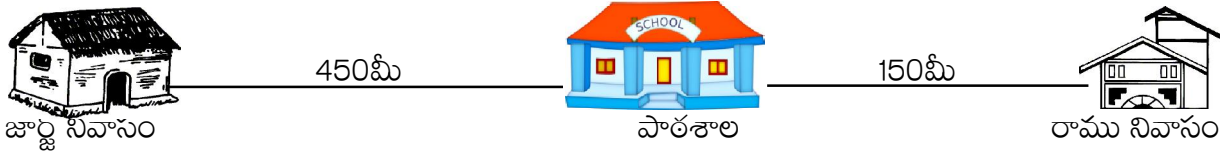
4. నా బరువు 22 కి.గ్రా. మా నాన్నగారి బరువు నా బరువు కన్నా 3 రెట్లు ఎక్కువ. ఐతే మా నాన్నగారి బరువు ఎంత?

5. సాధారణంగా మనం కిలోగ్రాములలో కొనేవాటిని ఐదంటిని, గ్రాములలో కొనేవాటిని ఐదంటి పేర్లు తెలపండి?

కారణాలు చెప్పడం(దృశ్యీకరణం)

10 మార్కులు


1. రాము మరియు జార్జ్ నివాసాలు పాఠశాలకు చెరిక వైపున ఉంటాయి. రాము నివాసానికి, జార్జ్ నివాసానికి 3 మా



మధ్య గల దూరమెంత?

2. ఈ క్రింది బాటిళ్లన్నింటిలో మొత్తం ఎంత నీరు పడుతుంది?

3 మార్కులు



3. రాజేంద్ర, రజని వారి ఇద్దరు పిల్లలు విజయనగంలో నివసిస్తున్నారు. ఆ కుటుంబం ఒకరోజులో వాడే నీటి వివరాలు కింది పట్టికలో ఇవ్వబడాయి.

ఉపయోగం

లీటర్లు

వంటకు, త్రాగడానికి వాడిన నీరు

15 లీటర్లు

వంట పాత్రలు శుభ్రం చేయడానికి

20 లీటర్లు

బట్టలు ఉతకడానికి

40 లీటర్లు

స్నానం కోసం

60 లీటర్లు ఆ కుటుంబం రోజు ఎంత

నీరు వాడుతుంది?

**వ్యక్తపరచడం**

ఈ కింది ఖాళీలను పూరించండి

- అ) 4 కి.గ్రా బియ్యం =.....గ్రా.బియ్యం.
 ఆ) 2 కి.గ్రా 500గ్రా పప్పు =.....గ్రా.పప్పు
 ఇ) 1750గ్రా.టమాట =.....కి.గ్రా.....గ్రా.టమాట.
 ఈ) 6కి.గ్రా.500గ్రా. చక్కెర =.....గ్రా. చక్కెర.
 ఉ.) 2550గ్రా. ఆలుగడ్డ =.....కి.గ్రా.....గ్రా. ఆలుగడ్డ

అనుసంధానం**5మార్కులు**

1 సెం.మీ. కన్నా తక్కువ పొడవు ఉండే వస్తువుల పేర్లు రాయండి.

2. ఈ క్రింది కాలాలలో ఏ సమయంలో నిమిషాల ముల్ల, గంటల ముల్లు ఒకదానితో మరొకటి కల్లుకొంటాయి.

- అ). 6-7 గంటల మధ్య..... ఇ) 3-4 గంటల మధ్య.....
 ఆ). 9 - 10 గంటల మధ్య..... ఈ) 12-1 గంటల మధ్య.....

వ్రాతనిధ్యపరచడం**5మార్కులు**

లండన్లో జరిగిన ఒలంపిక్ క్రీడలందు షాట్పుట్ మహిళా విభాగంలో స్వర్ణం, రజితం, కాంస్య పతకాలను పొందిన వారి వివరాలు కింద ఇవ్వబడినవి.

పతకం	విజేత పేరు	దేశం	విసిరస దూరం
స్వర్ణం	వాలరీ ఆడమ్స్	న్యూజిలాండ్	20మీ 70సెం.మీ
రజితం	యెల్జీనియా కోలోడ్కో	జర్మనీ	20మీ 48సెం.మీ
కాంస్యం	గాంగ్ లిజియావో	జర్మనీ	20మీ 22సెం.మీ

అ) షాట్పుట్ విసిరిన దూరంలో వాలరీ మరియు గాంగ్ల మధ్యగల వ్యత్యాసమెంత?

ఆ) ఈ పోటీలలో పాల్గొనుటకు షాట్పుట్ను 18మీ.90సెం.మీ. దూరమును విసరడాన్ని కనీస ఆర్హతగా నిర్ణయించారు. దానికంటే వాలరీ ఎంత ఎక్కువ దూరం షాట్పుట్ను విసిరింది?

ఇ) షాట్పుట్ విసరడంలో ప్రపంచ రికార్డు దూరం 22మీ.63 సెం.మీ. దీనిని నటాలియా లిసోవ్స్కాయా నెలకొల్పారు. ప్రపంచ రికార్డు కంటే యెల్జీనియా కోలోడ్కో విసిరిన దూరం ఎంత తక్కువ?



నిరంతర సమగ్ర మూల్యాంకనం : 2014-15

సంగ్రహణాత్మక మదింపు-2
మండలపరిషత్ ప్రాథమిక పాఠశాల

మార్కులు	
గ్రేడు	

విద్యార్థి పేరు : క్రమ సంఖ్య : మార్కులు : 50 సమయం : 2 గం॥

విద్యా ప్రమాణాలు	విషయావగాహన	పశ్చింపడం, పరికల్పనలు	ప్రయోగాలు క్షేత్ర పరిశీలనలు	సమాచార నైపుణ్యాలు	బొమ్మలు పట నైపుణ్యాలు	పశంస, విలువలు	మొత్తం
కేటాయించిన మార్కులు	20	5	5	10	5	5	50
సాధించిన మార్కులు							
గ్రేడు							

విషయావగాహన

20మార్కులు

1. ఈ క్రింది ప్రశ్నలకు సమాధానాలు రాయండి

5x4=20మార్కులు

అ) సరిహద్దులు అంటే ఏమిటి? మీ గ్రామానికి సరిహద్దులు తెలపండి

ఆ) మీ గ్రామ పంచాయితీ ఏయే పనులను చేస్తుంది?

ఇ). మీ మండలం పేరు ఏమిటి? అక్కడ ఏయే కార్యాలయాలు ఉన్నాయి?



ఈ.ఈ క్రింది ఖాళీలను పూరించండి

1. మన రాష్ట్రం పేరు.....
- 2.....ఉన్నావారికి ఆసుపత్రుల్లో ఉచితంగా వైద్య సహాయం అందచేస్తారు.
- 3.ప్రభుత్వ సంస్థ కానిదానికి ఒక ఊదా.....
- 4.ఏదైనా ప్రాంతానికి చుట్టూ అనుకుని ఆయా బిక్కుల్లో ఏమున్నాయో చెప్పడాన్నిఅంటారు.
5. మన జిల్లా కలెక్టరు పేరు.....

పశ్చిమచండం, పరికల్పనలు

5మార్కులు

1. ఆంధ్రప్రదేశ్ పటం చూడండి. మీకు కావలసిన సమాచారం కోసం కొన్ని ప్రశ్నలు రాయండి.

ప్రయోగాలు క్షేత్ర పరిశీలనలు

5మార్కులు

1. మీ గ్రామంలో ప్రభుత్వ సంస్థలు దర్శించి అవి ఏయే పనులు చేస్తున్నాయి? ఏమేమిచేయడం లేదో వ్రాయండి.

సమాచార నైపుణ్యాలు

10మార్కులు

అ).మీ మండల సమాచారాన్ని ఈ క్రింది విధంగా రాయండి

1. మీ మండలం పేరు :.....
- 2.మీ మండల అధ్యక్షుడు(రాలు) పేరు :.....
3. మీరు గ్రామం పేరు :.....
4. మీగ్రామం నుండి మండల అభివృద్ధి సమావేశాలకు ఎవరు హాజరౌతారు :.....
5. సమావేశంలో ఏయే అంశాలు చర్చిస్తారు. :.....

ఆ) మండల కేంద్రంలోని ఏదైనా ఒక కార్యాలయానికి వెళ్ళండి. ఆ కార్యాలయంలో ఏవరెవరు ఉంటారు. ఏయే పనులు చేస్తారు? ఆ కార్యాలయం ద్వారా ప్రజలకు చేకూరే ప్రయాజనాలేమిటి? మీ సేకరించిన వివరాలు రాయండి.



బోమ్మలు పటనైపుణ్యాలు

5మార్కులు

1. బిక్కులు, మూలలను సూచిస్తూ ఒక పటం గీయండి

పశంస, విలువలు

5మార్కులు

మన పాఠశాలలో ఒక ప్రభుత్వ సేవా సంస్థ కదా! మరి మీకు మన పాఠశాలలో చేయాల్సినవి, చేయకూడని పనులను రాయండి.



నిరంతర సమగ్ర మూల్యాంకనం : 2014-15

సంగ్రహణిత్యక్త మదింపు-2

మండల పరిషత్ ప్రాథమిక పాఠశాల

మార్కులు	
గ్రేడు	

విద్యార్థి పేరు : క్రమ సంఖ్య : మార్కులు : 50 సమయం : 2 గం॥

విద్యాప్రమాణాలు	వినడం మరియు మాట్లాడడం	రాత	సీయ్యరచన	సృజనాత్మకత	భాషాంశాలు	మొత్తం
కేటాయించిన మార్కులు	10	10	15	5	10	50
పొందిన మార్కులు						
గ్రేడు						

1. మౌఖిక పరీక్ష-10మార్కులు

సూచన:- వినడం - ఆలోచించడం మాట్లాడడం, ప్రశంస వంటిసామర్థాలలో పిల్లల స్తాయిని మౌఖిక పరీక్ష ద్వారా అంచనా వేయాలి.

1. మీరు ఏ ఏ పండుగలు ఎలా జరుపుకుంటారు
2. మీకు ఇష్టమైన అటలు ఏవి?
3. బ్రహ్మాదేవుడు చెప్పిన మాటలు విని మళ్ళా ఏం చెప్పి ఉంటుందో ఊహించి చెప్పండి

2. రాత పరీక్ష - 10మార్కులు

ధారాళంగా చదవండి అర్థంచేసుకొని రాయండి.

ఈ క్రింది పదాలను జతపరచి వాక్యాలుగా రాయండి

6మార్కులు

- | | | |
|-----------------|---------------|--------|
| 1. గోళ్ళితో | ఎగరేస్తాం | జ..... |
| 2. చెట్లు చేమలు | పట్టేస్తాం | జ..... |
| 3. కత్తి పడవలు | గురిపెట్టేసాం | జ..... |
| 4. చంద్రమండలమే | ఎక్కేసాం | జ..... |
| 5. బ్యాటు బంతి | చేసేస్తాం | జ..... |
| 6. పతంగులను మేం | చుట్టాస్తాం | జ..... |

ఈ క్రింది వాక్యాలు తారుమారైనాయి. సరిచేసిరాయండి

4మార్కులు

- | | |
|--|--------|
| 1. నా బాధను వినవా? ఈ అన్యాయమును అపవా? | జ..... |
| 2. ఎగా దిగా బ్రహ్మాదేవుడు బెల్లంలడ్డును చూశాడు. | జ..... |
| 3. ఒక్క పరుగులో బ్రహ్మాదేవుడి దగ్గరికి రెక్కలు కట్లుకుని వచ్చింది. | జ..... |
| 4. వచ్చే పొయ్యే ప్రతివాళ్ళ నన్ను నోట్లో వేసుకపోవడమేనా? | జ..... |

3. స్వీయరచన 15మార్కులు

ఈ క్రింది వ్యాసరూప ప్రశ్నలలో ఒకదానికి సమాధానం రాయండి

5మార్కులు

1. మీకు నచ్చిన పండుగను ఎలా జరుపుకొంటారో సొంతమాటల్లో రాయండి. (లేదా)
2. మీకు ఆటలంటే ఇష్టం కదా! మీకు ఇష్టమైన ఒక ఆటను ఎలా ఆడతారో రాయండి.

జ.....
.....
.....
.....

క్రింది ప్రశ్నలకు ఒకటి లేదా రెండు వాక్యాలలో రాయండి

5×2=10మార్కులు



Edited with the trial version of
Foxit Advanced PDF Editor

To remove this notice, visit:
www.foxitsoftware.com/shopping

1. మేరీమాత గుడులు ఎక్కడెక్కడ ఉన్నాయి?

జ.....
.....

2. “నేస్తాలతో మేం సర్దుకుపోతూ చెలిమిని చక్కగా చేసేస్తాం” అని ఉంది కదా? దీనివల్ల మీరేం నేర్చుకున్నారు?

జ.....
.....

3. బెల్లంలడ్లు తనను అందరూ ఎలా తింటారని చెప్పింది?

జ.....
.....

4. “మా ఆటలు” గేయం దేన్ని గురించి ఉంది? ఈ గేయం పాడితే మీకెలా అనిపించింది?

జ.....
.....

5. వచ్చే సంక్రాంతి సెలవులకు మీరెక్కడికి వెళ్ళాలనుకొంటున్నారు? ఏం చేయాలనుకుంటున్నారు?

జ.....
.....

సృజనాత్మకత (5మార్కులు)

ఈ క్రింది ప్రశ్నకు సమాధానం రాయండి

1. లడ్లు తన బాధను దేవుడికి చెప్పింది కదా! మీరు బాగా ఇష్టంగా తినేది ఏది? అది తన బాధను దేవుడితో ఏమని చెప్పుకుంటుందో ఊహించి రాయండి

జ.....
.....
.....

భాషాంశాలు

10మార్కులు

పదజాలం

5మార్కులు

1. మీకిష్టమైన ఆహార పదార్థాలను కింది పట్టికలో రాయండి

తీపి వంటకాలు

కూరలు

వంటకాలు

.....

.....

.....

.....

.....

.....

.....

.....

.....

.....

.....

.....

వ్యాకరణాంశములు

5మార్కులు

క్రింది పేరా చదవండి (. ,) గర్తును సరైన చోట ఉంచండి

దీపావళి పండుగకు టపాకాయలు కొందామని సోము బజారుకు వెళ్ళాడు అక్కడ కారకపువ్వుత్తులు చిచ్చుబుడ్లు టపాసులు మతాబులు రాకెట్లు కొన్నాడు తన స్నేహితులు అనంద్ అరవింద్ ఇషాన్ రాబర్టులను పిలిచాడు అందరూ కలిసి టపాసులు కాల్చారు



నిరంతర సమగ్ర మూల్యాంకనం : 2014-15

సంగ్రహణిత్రక మదింపు-2

మండల పరిషత్ ప్రాథమిక పాఠశాల

మార్కులు	
గ్రేడు	

విద్యార్థి పేరు : క్రమ సంఖ్య : మార్కులు : 50 సమయం 2 గం॥

విద్యాప్రమాణం	సమస్య సాధన	కారణాలు చెప్పడం, నిరూపణలు చేయడం	వ్యక్తపరచడం	అనుసంధానం	ప్రాశీనిత్య పరచడం	మొత్తం
కేటాయింబ మార్కులు	25	10	5	5	5	50
సాధించిన మార్కులు						
గ్రేడు						

సమస్య సాధన

5×5=25మార్కులు

ఈ క్రింది సమస్యలను సాధించండి

1. ఒకరోజు క్రికెట్ ఆటలో, ఇండియా జట్టు 326 పరుగులు చేసింది. శ్రీలంక ఇండియా కన్నా 179పరుగులు తక్కువ చేసింది. శ్రీలంక చేసిన పరుగులు ఎన్ని.

2. ఒక పెట్టెలో 65 మామిడి పండ్లు ఉన్నాయి. అలాంటి 8 పెట్టెలలో మొత్తం ఎన్ని పండ్లు ఉన్నాయి.

3. రు 68లను 4 గురు పిల్లలకు సమానంగా పంచిన ఒక్కొక్కరికి ఎన్ని రూపాయలు వస్తాయి?

4. నల్గొండ నుండి విజయవాడకు ఒక వ్యక్తికి బస్సు ప్రయాణపు చార్జీ రు.93. అయిన5మందికి అగు మొత్తం మొత్తం చార్జీ ఎంత?

5. 3వ తరగతిలో 50మంది విద్యార్థులున్నారు. వీరిని ఐదుగురు చొప్పున గ్రూపులు చేస్తారు. అయితే ఎన్ని గ్రూపులు ఏర్పడినవి?

కారణాలుచెప్పడం నిరూపణలు చేయడం

1. ఈ క్రింది సంఖ్యల అమరికలను చూడండి. తరువాత సంఖ్యలను రాయండి.

- అ) 100, 200, 300.
- ఆ) 25, 50, 75
- ఇ) 750, 725, 700,
- ఈ) 653, 638, 623
- ఉ) 650, 600, 550

2. ఈ క్రింది వానిని గుణకార రూపంలో రాయండి

1. $5 + 5 + 5 = \dots \times \dots = \dots$
2. $6 + 6 + 6 + 6 = \dots \times \dots = \dots$
3. $3 + 3 + 3 + 3 + 3 = \dots$
4. $1 + 1 + 1 + 1 + 1 + 1 = \dots$
5. $10 \times 5 = \dots$

వ్యక్తపరచడం

5మార్కులు

ఈ క్రింది సమాచారాన్ని చూసి ఇలాగే మరికొన్ని ప్రశ్నలు తయారు చేయండి

1. తీసివేతకు చెందిన ప్రశ్నను తయారుచేసి రాయండి.

అ) చెట్టుపై 10 పక్షులు ఉన్నాయి 2 పక్షులు ఎగిరపోయాయి.

2. కూడికకు చెందిన ప్రశ్నను తయారుచేసి రాయండి.

అ) నేను 15 పేజీలు చదివాను, నేను 29 పేజీలు చదివాను

అనుసంధానం

5మార్కులు


ఈ క్రింద ఇవ్వబడిన 8 బంతులను, 4 బంతులున్న సమాన గ్రూపులుగా చేయాలంటే 8 బంతులు నుండి 4 బంతుల చొప్పున వూరయ్యే వరకు తీసివేయాలి.



ప్రాతినిధ్య పరచడం

5మార్కులు

1. ఎన్ని కొవ్వొత్తులు ఉన్నాయి?




సమూహాల సంఖ్య =

ఒక సమూహంలోని కొవ్వొత్తుల సంఖ్య =

మొత్తం కొవ్వొత్తులు = \times

2. ఎన్ని ఆపిల్లు ఉన్నాయి?



సమూహాల సంఖ్య =

సమూహంలోని ఆపిల్ సంఖ్య =

మొత్తం ఆపిల్ = \times



నిరంతర సమగ్ర మూల్యాంకనం : 2014-15

సంగ్రహణిత కుబింపు-2

మండల పరిషత్ ప్రాథమిక పాఠశాల

మార్కులు	
గ్రేడు	

విద్యార్థి పేరు : క్రమ సంఖ్య : మార్కులు :50 సమయం : 2 గం॥

విద్యా ప్రమాణాలు	విషయావగాహన	పశ్చింపడం, పరికల్పనలు	ప్రయోగాలు క్షేత్ర పరిశీలనలు	సమాచార నైపుణ్యాలు	బొమ్మలు పట నైపుణ్యాలు	పశంస, విలువలు	మొత్తం
కేటాయించిన మార్కులు	20	5	5	10	5	5	50
సాధించిన మార్కులు							
గ్రేడు							

విషయావగాహన

20మార్కులు

1. ఈ క్రింది ప్రశ్నలకు సమాధానాలు రాయండి

5x4=20మార్కులు

అ) గ్రామంలో బ్యాంకు ఉంటే కలిగే లాభాలు ఏమిటి?

జి.....
.....
.....

ఆ) ఇంటి పై కప్పులు ఏటవాలుగా ఉంటాయి. ఎందుకు?

జి.....
.....
.....

ఈ) మీ ఇంటిని శుభ్రంగా ఉంచుకోవడానికి మీరు చేసే నాలుగు పనులను రాయండి.

జి.....
.....
.....

ఇ) మీ ఇంట్లో మట్టితో చేసిన వస్తువులు ఏమేమి ఉన్నాయి? వాటిని దేనికి ఉపయోగిస్తారు?

జి.....
.....
.....
.....
.....

ఈ) మీ నివాస ప్రాంతంలో ఉండే రకరకాల ఇళ్లను గురించి చెప్పండి

జి.....
.....



ప్రశ్నించటం పరికల్పనలు

5మార్కులు

1. మురళి, సరిత, విజయ్‌వాళ్ళ ఇంటికి వెళ్ళారు. వాళ్ల ఇల్లు అపరిశుభ్రంగా ఉంది. అపరిశుభ్రంగా ఉన్న ఇంటిని గురించి మురళి, సరిత విజయ్‌ని ఏయే ప్రశ్నలు అడిగి ఉంటారు. విజయ్ ఏమి సమాధానాలు చెప్పి ఉంటాడు.

జ.....
.....
.....

ప్రయోగాలు క్షేత్రపరిశీలనలు

5మార్కులు

1. వేరు వేరు ప్రాంతాల్లో ఉండే ఇళ్ళను గురించి రాయండి.

జ.....
.....
.....

సమాచార నైపుణ్యాలు

10మార్కులు

1. సంతకు లేదా బజారుకు వెళ్ళి మట్టితో తయారుచేసిన ఏయే వస్తువులు అమ్ముతున్నారో వాటి పట్టిక తయారుచేయండి. అలాగే వాటి ధర ఎంతో తెలుసుకొని రాయండి.

2. మీ మిత్రుల ఇళ్ళకు వెళ్ళండి. వాళ్ళ ఇళ్ళు ఎలా ఉన్నాయో చూసి క్రింది పట్టికలో రాయండి

క్ర.సం. మిత్రుని పేరు ఇల్లు శుభ్రంగా ఉందా? లేదా? ఎందువల్ల?

- 1.
- 2.
- 3.
- 4.

బొమ్మలు పటనైపుణ్యాలు

5మార్కులు

మీ పాఠశాల బొమ్మ గీయండి. రంగులు వేయండి

ప్రశంస, విలువలు

5మార్కులు

రవి సాయంత్రం పాఠశాల నుంచి ఇంటికి వచ్చాడు. ఇంటి ముందు చిందర వందరగా చెప్పులు ఉన్నాయి. ఆరేసిన బట్టలు కిందపడి ఉన్నాయి. ఇవేవి పట్టించుకలోకుండా తన పుస్తకాల సంచిని ఇంట్లో వేసి ఆడుకోడానికి బయటకు వెళ్ళాడు. ఇలా చేయడం సరియైన పనేనా? మీరైతే ఏం చేస్తారు?



నిరంతర సమగ్ర మూల్యాంకనం : 2014-15

నిర్మాణాత్మకమూల్యాంకనం-2

మార్కులు	
గ్రేడు	

విద్యార్థి పేరు : క్రమ సంఖ్య : మార్కులు : 50 సమయం : 2 గం॥

1. దిగువ సమస్యలను సాధించండి.

5 × 2 = 10 మా॥

1). రాజు దగ్గర 25 గోళాలు ఉన్నాయి. రమేష్ వద్ద 38 గోళాలు ఉన్నాయి. అయిన వారిద్దరి వద్ద ఉన్న మొత్తం గోళాలు ఎన్ని?

2). కిరణ్ ఒక పుస్తకం రూ.20లకు కొని షాపువానికి రూ.50లు ఇచ్చిన కిరణ్ కు ఎంత తిరిగి వస్తుంది?

3). “నూట తొంబై ఆరు ” ను అక్షరాలలో రాయండి.

4). 681 ను విస్తరణ రూపంలో రాయండి.

5). 245, 264, 375, 99 లను ఆరోహణ క్రమంలో రాయండి.

2. దిగువ సమస్యలను సాధించండి.

5 × 2 = 10 మా॥

1. 38 + 46 = ?

2. 84 - 36 = ?

3. 12 × 4 = ?

4. 30 ÷ 5 = ?

5. 23 + 12 - 10 = ?



నిరంతర సమగ్ర మూల్యాంకనం : 2014-15

నిర్మాణాత్మక మూల్యాంకనం-2



మార్కులు	
గ్రేడు	

విద్యార్థి పేరు : క్రమ సంఖ్య : మార్కులు : 20 సమయం : 1 గం॥

I ఇచ్చిన సంఖ్యకు ముందు, తర్వాత సంఖ్యలను రాయండి.

5 మార్కులు

	36	
	51	
	78	

II పెద్ద సంఖ్యకు సున్నా చుట్టండి. ○

5 మార్కులు

15 8 17 7 10 20 15 12 8 10

III. సంఖ్యను చూసి పదులు రాయండి

5 మార్కులు

సంఖ్య	పదులు
80	8
30	
50	
90	
20	
70	

4 20, 30 మధ్యగల సంఖ్యలను ○ తో చుట్టండి

5 మార్కులు

64 24 17
20 22 31
41 37 76
50 27 19
30 23 18
26 28 83
93 21 15